

Itä-Suomen yliopisto
Yhteiskuntatieteiden ja kauppatieteiden tiedekunta
Maantiede ja ympäristöpolitiikka, valintakoe

Ti 4.6.2019 klo 14–18 saleissa M100 (Joensuu) ja MD100 (Kuopio) sekä Lyseon lukion juhlasalissa (Lahti)

Ohjeet

- Tehtävät alkavat tämän paperin kääntöpuolelta
- Valintakokeessa vastataan kaikkiin tehtäviin
- Jokainen vastaus kirjoitetaan omalle paperilleen
- **Kirjoita nimesi ja syntymäaikasi jokaiseen paperiin; jos jätät vastaamatta johonkin kysymykseen, palauta silti nimelläsi varustettu vastauspaperi**
- Kirjoita vastauksesi selkeällä käsialalla ja siten, että jätät marginaalin myös oikeaan reunaan
- Kokeesta saa poistua aikaisintaan puolen tunnin kuluttua kokeen alkamisesta
- Kaikki paperit palautetaan kokeen valvojalle (tehtävien vastaukset erillisille papereille ja myös sutut/tyhjät)
- Palautuksen yhteydessä henkilöllisyytesi tarkistetaan; ota henkilötodistus/ajokortti valmiiksi esille; vältä ruuhkaa palautusvaiheessa: palautus jonossa yksi kerrallaan!
- Tarvittaessa saat todistuksen kokeeseen osallistumisesta
- Hakukohteen tulokset julkaistaan viimeistään 28.6.2019.

Avoin kysymys (ei pisteitä, eikä vaikutusta valintaan): kartoitamme hakijoiden pääainesuuntautuneisuutta.

Rastita, mikä on todennäköisin pääaine, jota haluaisit opiskelupaikan saatuaasi opiskella.

A Maantiede ____

B Yhteiskuntamaantiede ____

C Ympäristöpolitiikka ____

TEHTÄVÄ 1. (maksimi 20 pistettä)

Siirtymä fossiilitaloudesta kierto- ja biotalouteen: muutoksen yhteiskunnalliset, taloudelliset ja ympäristölliset tavoitteet sekä niiden haasteet

Kirjoita essee yllä annetusta teemasta. Pohdi fossiilitalouden piirteitä ja ongelmia, sekä kierto- ja biotalouden piirteitä ja siirtymän haasteita eri näkökulmista.

Vastauksen tulee olla esseemuotoinen (max. 3 sivua). Arvioinnissa kiinnitetään huomiota vastauksen sisällön lisäksi tekstin jäsennykseen, loogisuuteen ja kielelliseen selkeyteen.

Vastaa tehtävään konseptille. Muista merkitä nimesi ja syntymäaikasi konseptiin

TEHTÄVÄ 2. (maksimi 18 pistettä)

Erillinen tehtäväpaperi.

Muista merkitä nimesi ja syntymäaikasi tehtäväpaperiin

TEHTÄVÄ 3. (maksimi 18 pistettä)

Tehtävät ovat erillisellä paperilla. Tehtävään liittyvät kartat ja diagrammit ovat tämän tehtäväpaperin sivuilla 3–4 (väestönkehitys ja luonnonolot)

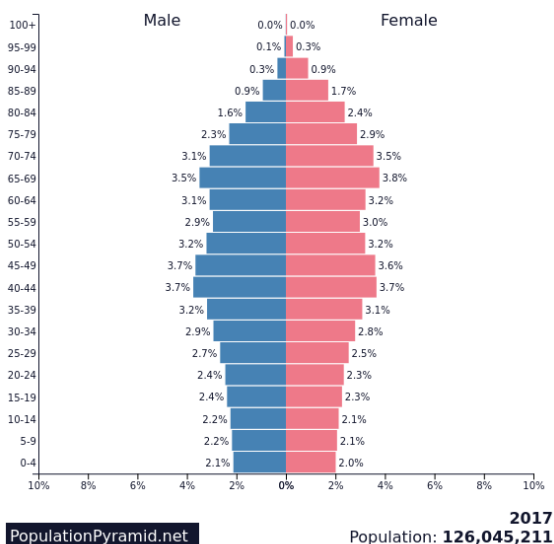
Muista merkitä nimesi ja syntymäaikasi tehtäväpaperiin

Aineisto tehtävään 3: Väestönkehitys ja luonnonolot: kartat ja diagrammit.

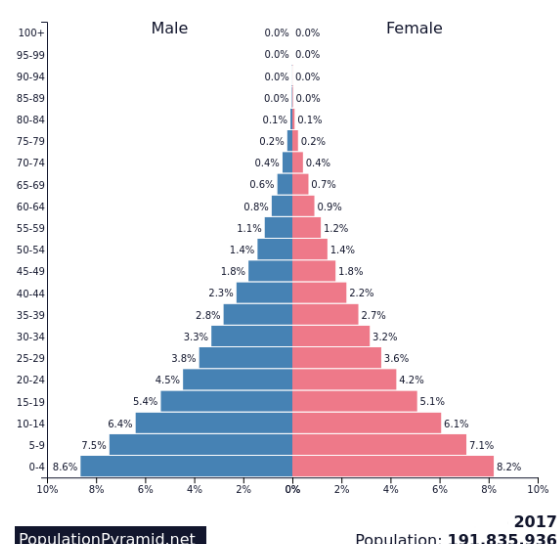
Kuva 1. Japanin ja Nigerian sijainti (kartta: simplemaps).



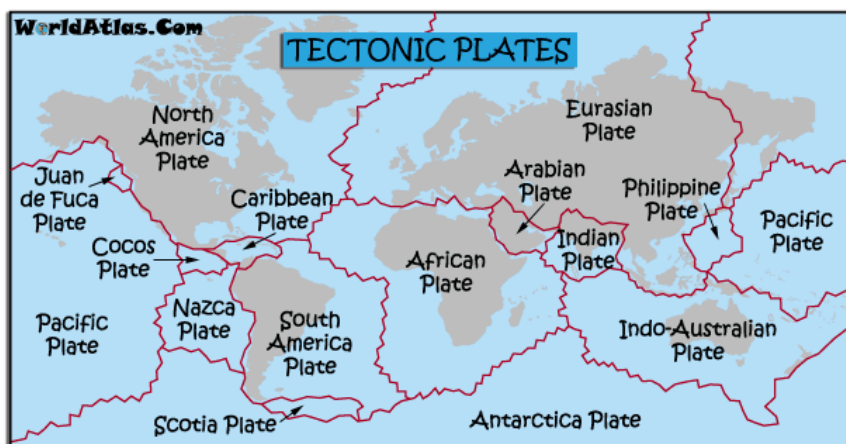
Kuva 2. Väestöpyramidi A.



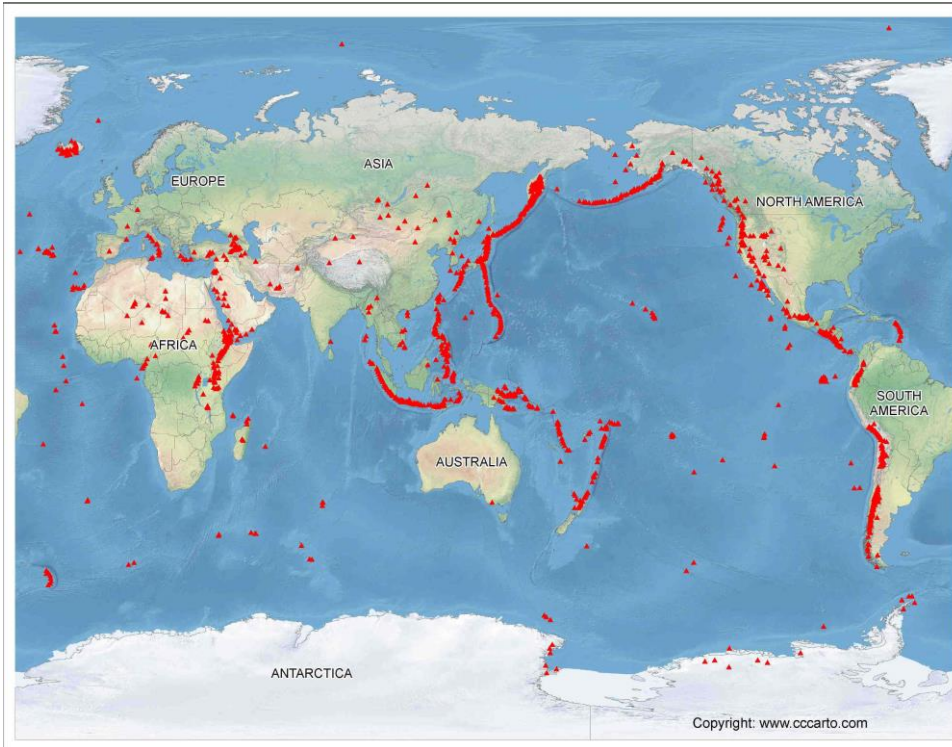
Kuva 3. Väestöpyramidi B.



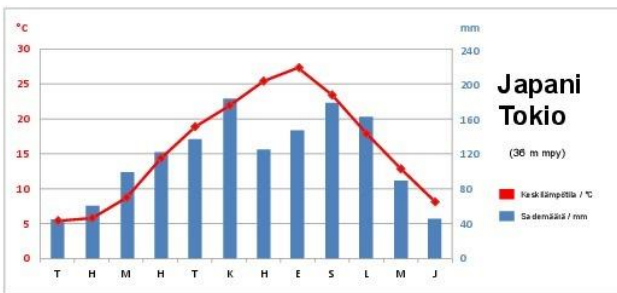
Kuva 4. Mannerlaatat (worldatlas.com).



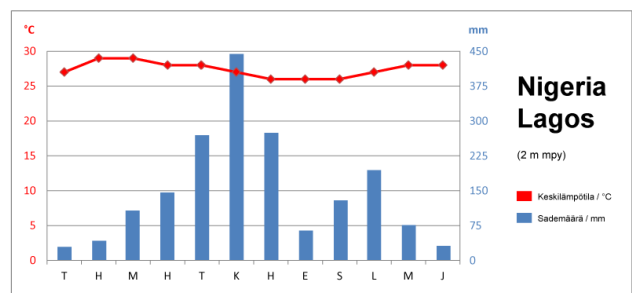
Kuva 5. Vulkaaninen toiminta (occarto.com).



Kuva 6. Tokion ilmastodiagrammi (peda.net).



Kuva 7. Lagosin ilmastodiagrammi (peda.net).



Kuva 8. Kasvillisuusvyöhykkeet (CC-BY-SA 3.0).

